



1 பொருத்தமாக இணைக்க.

எ.கா:



தேங்காய்

வெண்டைக்காய்

முரசு

கழுகு

பனைமரம்

உழவர்

5 X 2 = 10 புள்ளிகள்

2

பொருத்தமான சொல்லைத் தெரிவு செய்து எழுதுக.

பாடுவாள்

எழுதுகிறான்

மேய்ந்தன

வருகின்றோம்

ஓடியது

சமைப்பார்

எ.கா: மான்

ஓடியது

1 நாங்கள்

2 அவன்

3 நண்பி

4 அப்பா

5 மாடுகள்

5 X 2 = 10 புள்ளிகள்

3

கீறிட்ட இடங்களில் விடுபட்ட எழுத்தை எழுதுக.

எ.கா:

தொட ந்து

று | ரு

1 பதி ந்து

னை | னை

2 பலாம ம்

ற | ர

3 மார்க

லி | ழி

4 கெ துதல்

ன் | ந்

5 இன்கலைக

ள் | ல்

5 X 1 = 5 புள்ளிகள்

4

பார்த்து உறுப்பமைய எழுதுக.

1 நாங்கள் தமிழர்.

2 ஆறுவது சினம்.

2 X 2½ = 5 புள்ளிகள்

5

வினாக்களுக்கு விடை எழுதுக.

எ.கா: ஈழத்தில் இயற்கைத் துறைமுகம் உள்ள இடம் எது?

திருகோணமலை

1 பருவகாலங்கள் எத்தனை?

2 நீங்கள் வாழும் நாடு எது?

3 ஆத்திசூடியை எழுதியவர் யார்?


4 விண்வளிக்கு எதில் போகவேண்டும்?

5 தமிழரது உணவு ஒன்று எழுதுக.

5 X 2 = 10 புள்ளிகள்

எ.கா:

நீந்துகிறார்கள்




சறுக்குகிறான்



பார்க்கிறார்



நடுகிறாள்



உதவுகிறாள்



துரத்துகிறது



5 X 2 = 10 புள்ளிகள்

7

உறவினர்களைக் கண்டறிந்து எழுதுக.

அ	பெ	அ	சி	மா	மா
ம்	ரி	ப்	ன்	மி	பெ
ம	ய	ப	ன	தா	ரி
ம்	ப்	ப்	ம்	த்	ய
மா	பா	பா	மா	தா	ம்
சி	ற்	ற	ப்	பா	மா

எ.கா:

பெரியம்மா

1.

2.

3.

4.

5.

5 X 2 = 10 புள்ளிகள்

8

மாறியிருக்கும் சொற்களை ஒழுங்குபடுத்திச் சொல்லியம் ஆக்குக.

எ.கா:

உள்ளவர்

சங்கிலியன்

நாட்டுப்பற்று

சங்கிலியன் நாட்டுப்பற்று உள்ளவர்.

1

பெற்றோன்

வெற்றியைப்

நான்

2

ஆசிரியர்

சென்றார்

பள்ளிக்குச்

3

அப்பம்மா

பின்னிணர்

கூடையைப்

4

சொல்லைத்

பெற்றோர்

தட்டாதே

5

பொருளைத்

தேடினார்

முதியவர்

5 X 2 = 10 புள்ளிகள்

9

படத்தைப் பார்த்து மூன்று சொற்களும்
மூன்று சொல்லியங்களும் எழுதுக.



வீதி

எ.கா:

இது ஒரு மழைக்காட்சி.

1

2

3

3 X 2 = 6 புள்ளிகள்

1

2


3

3 X 3 = 9 புள்ளிகள்

6+9 = 15 புள்ளிகள்

பகுதி 2 வாசித்தலும் விளங்கிக்கொள்ளுதலும்

தரப்பட்டுள்ள படத்தைப் பார்த்து வினாக்களுக்கு விடை எழுதுக.



1 படத்தைப் பார்த்து, கூற்றுகளுக்குப் பொருத்தமான எண்ணை அடைப்புக்குறிக்குள் எழுதுக.

- எ.கா: நெசவாளர் சிவப்பு நிறச் சேலை நெய்கிறார். (2)
- 1 கூடையினுள் பலாப்பழம் ஒன்று உள்ளது. ()
- 2 வாத்துகள் முன் பின்னாகச் செல்கின்றன. ()
- 3 பனம் பொருள்கள் விற்கப்படுகின்றன. ()
- 4 சிறுவன் தண்ணுமை வாசிக்கிறான். ()
- 5 மணிக்கூடு இரண்டு மணியைக் காட்டுகிறது. ()

5 X 2 = 10 புள்ளிகள்

2

படத்தைப் பார்த்து சரியாயின் ✓ எனவும் பிழையாயின் X எனவும் அடையாளம் இடுக.

எ.கா: நெசவாளர் இருக்கையில் இருக்கிறார். (✓)

1 கூடைக்கு வெளியே மாம்பழங்கள் இருக்கின்றன. ()

2 சிறுமி சிற்பம் செதுக்குகிறாள். ()

3 மணிக்கூடு மேசையின் மேல் இருக்கிறது. ()

4 நான்கு வாத்துகள் செல்கின்றன. ()

5 கடையில் விற்கப்படும் பொருள்களுள் ஒன்று கடகம். ()

5 X 1 = 5 புள்ளிகள்

பணியகப் பயன்பாட்டுக்கு மட்டும்

வினா எண்	புள்ளிகள்	முதலாம் முறை	இரண்டாம் முறை	இறுதிப் புள்ளிகள்
----------	-----------	--------------	---------------	-------------------

எழுதுதல்

1	10			
2	10			
3	05			
4	05			
5	10			
6	10			
7	10			
8	10			
9	15			

வாசித்தலும் விளங்கிக்கொள்ளுதலும்

1	10			
2	05			
	மொத்தப் புள்ளிகள்			

	முழுப்பெயர்	கையொப்பம்
முதலாம் முறை		
இரண்டாம் முறை		
மேற்பார்வையாளர்		